

प्रश्न पुस्तिका
QUESTION BOOKLET

AX11



Question Booklet Number
प्रश्न पुस्तिका क्रमांक

पूर्णांक / Maximum
Marks : **400**

समय / Time :
2 घंटे / Hours

पुस्तिका में पृष्ठों की
संख्या / Number of
Pages in Booklet : **16**

पुस्तिका में प्रश्नों की संख्या /
Number of Questions in
Booklet : **100**

अनुदेश / Instructions

- प्रश्न पत्र को हल करने से पहले, कृपया अपनी प्रश्न पुस्तिका और ओ.एम.आर. उत्तर-पत्रक की जांच करें और सुनिश्चित करें कि:
 - प्रश्न पुस्तिका और ओ.एम.आर. उत्तर-पत्रक की क्रम संख्या समान है।
 - प्रश्न पुस्तिका के सभी पृष्ठ ठीक से मुद्रित हैं और सभी पृष्ठों पर सारे प्रश्न मुद्रित हैं।

किसी भी विसंगति/दोष के मामले में, अभ्यर्थी को प्रश्न पुस्तिका और ओ.एम.आर. उत्तर-पत्रक को बदलने के लिए तुरंत अभिजागर को मामले की सूचना देनी चाहिए। परीक्षा प्रारम्भ होने के पांच मिनट बाद इस संबंध में किसी भी दावे/आपत्ति पर विचार नहीं किया जाएगा। इसके लिए अभ्यर्थी उत्तरदायी होगा।

Before attempting the question paper, kindly check your Question Booklet(QB) and O.M.R. Answer Sheet and ensure that:

 - Serial number of Question Booklet(QB) and OMR Answer Sheet is same.
 - All pages and all questions are properly printed

In case of any discrepancy/defect, the candidate should immediately report the matter to the Invigilator for replacement of Question Booklet(QB) and OMR Answer Sheet. No claim/objection in this regard will be entertained after five minutes of start of examination, candidate will be liable for the same.
- ओएमआर उत्तर-पत्रक के पीछे दिए गए सभी निर्देश पढ़ें।
Read all instructions on the reverse of OMR Answer Sheet.
- ओएमआर उत्तर-पत्रक पर केवल नीले बॉल प्वाइंट पेन का प्रयोग करें। कृपया, ओएमआर उत्तर-पत्रक में अपना रोल नंबर और अन्य जानकारी सही ढंग से भरें।
On OMR Answer Sheet, use blue ball point pen only. Please, fill your Roll No. and other information correctly in OMR Answer Sheet.
- यदि किसी प्रश्न के लिए एक से अधिक उत्तर अंकित किये जाते हैं तो उसे गलत उत्तर माना जायेगा।
If more than one response is marked for a question, it would be treated as wrong answer.
- प्रत्येक गलत उत्तर का प्रश्न अंक का 1/4 भाग काटा जायेगा। गलत उत्तर से तात्पर्य अशुद्ध उत्तर या किसी प्रश्न के एक से अधिक उत्तर से है।
1/4 part of the mark(s) of each question will be deducted for each wrong answer. (A wrong answer means an incorrect answer or more than one answers for any question).
- प्रत्येक प्रश्न में पाँच विकल्प/गोले हैं। पहले चार विकल्प/गोले (A), (B), (C) और (D) उपयुक्त उत्तर से संबंधित हैं और पाँचवाँ विकल्प/गोला (E) 'अनुत्तरित प्रश्न' से संबंधित है।
Each question has five options/circles. First four options/circles (A), (B), (C) and (D) are related to appropriate answer and fifth option/circle (E) is related to 'Question not attempted'.
- सही उत्तर दर्शाने के लिए अभ्यर्थी को ओ.एम.आर. उत्तर-पत्रक पर संबंधित प्रश्न संख्या के पहले चार विकल्प (A), (B), (C) या (D) में से केवल एक विकल्प/गोले को नीले बॉल प्वाइंट पेन से भरना होगा। यदि अभ्यर्थी किसी प्रश्न

- का उत्तर नहीं देना चाहता है तो पाँचवें विकल्प/गोले (E) को गहरा करना होगा।
To indicate the correct answer, the candidate has to fill in only one option/circle (A), (B), (C) or (D) with blue ball point pen for respective question number on the OMR Answer Sheet. If the candidate does not want to answer any question then the fifth option/circle (E) should be darkened.
- यदि पाँच विकल्पों में से कोई भी विकल्प/गोला गहरा नहीं किया गया तो प्रश्न का 1/3 भाग अंक काट लिया जायेगा।
1/3 part of the marks will be deducted for the questions, if none of the option/circle are darkened.
 - 10 प्रतिशत से अधिक प्रश्नों में किसी भी विकल्प/गोले को अभ्यर्थी द्वारा गहरा नहीं किया गया तो उसे परीक्षा के लिए अयोग्य घोषित कर दिया जाएगा।
If a candidate leaves more than 10 percent questions or does not darken any of the five options, he/she will be disqualified for the exam.
 - अभ्यर्थी को प्रत्येक प्रश्न के लिए कम से कम एक विकल्प/गोला भरा है या नहीं यह सुनिश्चित करने के लिए 10 मिनट अतिरिक्त दिए जाएंगे।
Candidate will be given 10 minutes extra to make sure, if he/she has filled up any one option/circle for each questions.
 - यदि प्रश्न के हिन्दी या अंग्रेजी संस्करण में मुद्रण या तथ्यात्मक प्रकृति की किसी भी प्रकार की अस्पष्ट/गलती है, तो अंग्रेजी संस्करण को अंतिम माना जाएगा।
If there is any sort of ambiguity / mistake either of printing or factual in nature in Hindi or English version of questions, then the English Version will be treated as final.
 - परीक्षा हॉल में मोबाइल फोन/ब्लूटूथ डिवाइस या किसी अन्य इलेक्ट्रॉनिक गैजेट का उपयोग सख्त वर्जित है। यदि किसी अभ्यर्थी के पास ऐसी कोई प्रतिबंधित सामग्री पाई गई तो उसके विरुद्ध नियमानुसार सख्त कार्रवाई की जाएगी।
Use of Mobile Phone / Bluetooth Device or any other electronic gadget in the examination hall is strictly prohibited. If any such prohibited material is found with any candidate, strict action will be taken against him/her as per rules.

चेतावनी : यदि कोई अभ्यर्थी नकल करते हुए पाया जाता है या अनुचित तरीके अपनाते हुए पाया जाता है या उसके पास कोई अनाधिकृत सामग्री पाई जाती है तो उसके खिलाफ पुलिस स्टेशन में एफ.आई.आर. दर्ज की जाएगी और वह राज्य सार्वजनिक परीक्षा अधिनियम, 2022 और संशोधन अधिनियम 2023, (भर्ती में अनुचित साधनों की रोकथाम के अध्यापय) के तहत मुकदमा चलाने के लिए उत्तरदायी होगा जिसमें 10 वर्ष से आजीवन कारावास तथा ₹ 1 करोड़ तक का प्रावधान है। उसे बोर्ड की भविष्य की सभी परीक्षाओं से स्थायी रूप से विवर्जित भी किया जा सकता है।

Warning : If a candidate is found copying or using unfair means or if any unauthorized material is found in his/her possession, F.I.R. will be lodged against him/her in the Police Station and he/she would be liable to be prosecuted under State Public Examination (Measures for Preventions of Unfair Means in Recruitment) Act, 2022 and Amendment Act 2023. The act has provisions of imprisonment of 10 years to life and fine up to ₹ 1 crore. Board may also debar him/her permanently from all future examinations conducted by the Board.

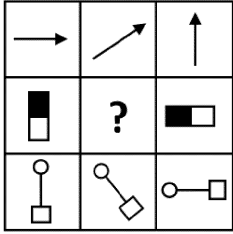


इस परीक्षा पुस्तिका को तब तक न खोलें जब तक कहा न जाए ।

Do not open this test booklet until you are asked to do so.

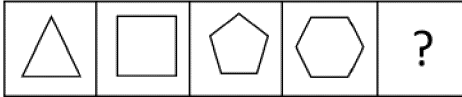
- 1 नवनीत ने प्रीत से कहा, 'हालाँकि मैं तुम्हारी माँ की बेटी हूँ, तुम मेरी बहन नहीं हो।' प्रीत का नवनीत से क्या संबंध है?
 (A) बहन (B) भाई
 (C) चचेरा भाई (D) भतीजा
 (E) अनुत्तरित प्रश्न

- 2 निम्नलिखित में से कौन सी आकृति दिए गए चित्र आव्यूह को पूरा करेगी ?



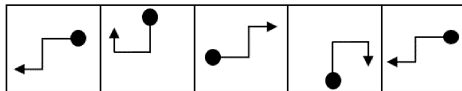
- (A) (B)
 (C) (D)
 (E) अनुत्तरित प्रश्न

- 3 उस आकृति का चयन करें जो नीचे दी गई समान श्रृंखला जारी रखेगी:



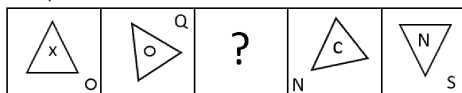
- (A) (B)
 (C) (D)
 (E) अनुत्तरित प्रश्न

- 4 निम्नलिखित में से कौन सी आकृति दी गई श्रृंखला को जारी रखेगी?



- (A) (B)
 (C) (D)
 (E) अनुत्तरित प्रश्न

- 5 निम्नलिखित विकल्पों में से उस आकृति का चयन करें जो दी गई श्रृंखला को पूरा करेगी:

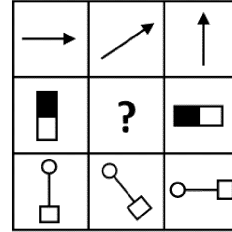


- (A) (B)
 (C) (D)
 (E) अनुत्तरित प्रश्न

- 1 Navneet told Preet, 'Though I am the daughter of your mother, you are not my sister.' How is Preet related to Navneet?

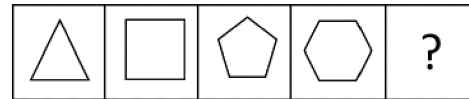
- (A) Sister (B) Brother
 (C) Cousin (D) Nephew
 (E) Question not attempted

- 2 Which of the following figures will complete the given figure matrix?



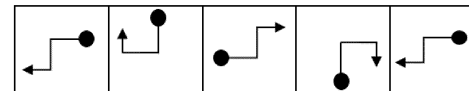
- (A) (B)
 (C) (D)
 (E) Question not attempted

- 3 Select the figure which would continue the same series as below:



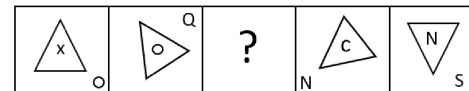
- (A) (B)
 (C) (D)
 (E) Question not attempted

- 4 Which of the following figures continue the given series?



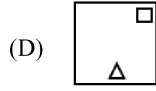
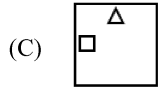
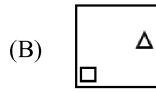
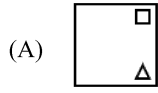

- (A) (B)
 (C) (D)
 (E) Question not attempted

- 5 Select the figure from the following options which will complete the given series:



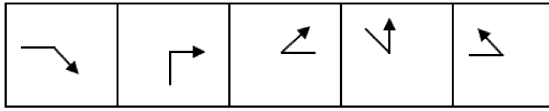
- (A) (B)
 (C) (D)
 (E) Question not attempted

6 निम्नलिखित में से कौन सी आकृति दी गई आकृति श्रृंखला को पूरा करेगी?



(E) अनुत्तरित प्रश्न

7 निम्नलिखित में से कौन सी आकृति विषम है?



(a) (b) (c) (d) (e)

(A) b

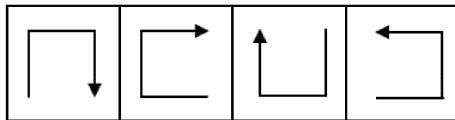
(B) d

(C) e

(D) c

(E) अनुत्तरित प्रश्न

8 विषम का चयन कीजिए।



(a) (b) (c) (d)

(A) a

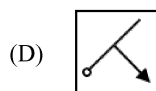
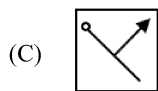
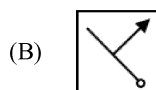
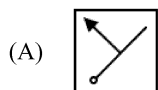
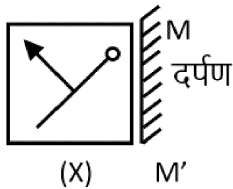
(B) b

(C) c

(D) d

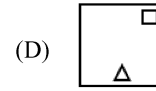
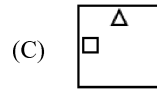
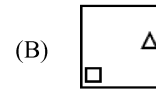
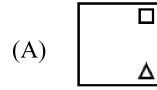

(E) अनुत्तरित प्रश्न

9 नीचे दी गई आकृति (X) की सही दर्पण (M M') छवि का चयन कीजिए:



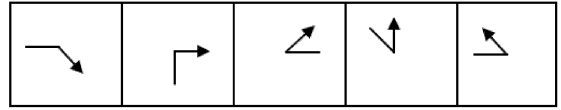
(E) अनुत्तरित प्रश्न

6 Which of the following figures will complete the given figure series?



(E) Question not attempted

7 Which of the following figure is the odd one out?



(a) (b) (c) (d) (e)

(A) b

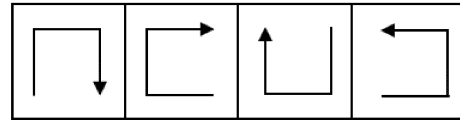
(B) d

(C) e

(D) c

(E) Question not attempted

8 Choose the odd one out.



(a) (b) (c) (d)

(A) a

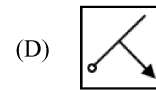
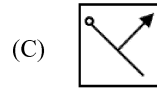
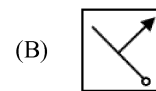
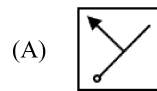
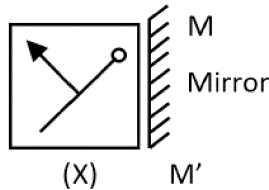
(B) b

(C) c

(D) d

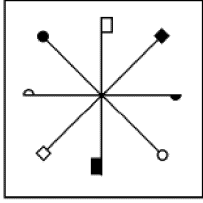
(E) Question not attempted

9 Choose the correct mirror (M M') image of the figure(X) given below:



(E) Question not attempted

- 10 निम्नलिखित में से कौन सी आकृति दी गई आकृति(X) की सही जल छवि है?



(X)

- (A) (B) (C) (D)

(E) अनुत्तरित प्रश्न

- 11 राजस्थान में कैल्साइट का भंडार किस स्थान पर पाया जाता है? (निम्न में से सबसे उपयुक्त विकल्प चुनें)

- (A) सिराही (B) भरतपुर
(C) धौलपुर (D) अलवर

(E) अनुत्तरित प्रश्न

- 12 “इंदिरा गांधी शहरी क्रेडिट कार्ड योजना” के लाभार्थी हैं:-

- (A) राजस्थान में कॉर्पोरेट कार्यालयों में काम करने वाली महिलाएँ
(B) राजस्थान में ब्लू कॉलर बैंक कर्मचारी
(C) राजस्थान के शहरी क्षेत्रों में स्ट्रीट वेंडर
(D) राजस्थान के शहरी क्षेत्रों में घरेलू सहायिका के रूप में काम करने वाले लोग

(E) अनुत्तरित प्रश्न

- 13 आर्थिक समीक्षा (2023-24) के अनुसार, दूसरे अग्रिम अनुमानों के तहत, वर्ष 2023-24 के लिए वर्तमान मूल्यों पर प्रति व्यक्ति आय अनुमानित है:-

- (A) ₹ 1,76,240 (B) ₹ 1,50,653
(C) ₹ 1,67,964 (D) ₹ 1,79,080

(E) अनुत्तरित प्रश्न

- 14 भारत के प्रधान मंत्री की नियुक्ति कौन करता है? (निम्न में से सबसे उपयुक्त विकल्प चुनें)

- (A) संसद (B) राष्ट्रपति
(C) लोकसभा (D) भारत के नागरिक

(E) अनुत्तरित प्रश्न

- 15 भारत के राष्ट्रपति को पद ग्रहण करने से पहले पद की शपथ कौन दिलाता है?

- (A) अध्यक्ष (B) भारत के उप-राष्ट्रपति
(C) भारत के मुख्य न्यायाधीश (D) प्रधान मंत्री

(E) अनुत्तरित प्रश्न

- 16 राज्य की कार्यपालिका शक्ति किसमें निहित होती है?

- (A) गृह मंत्री (B) मुख्यमंत्री
(C) सुप्रीम कोर्ट के मुख्य न्यायाधीश (D) राज्यपाल

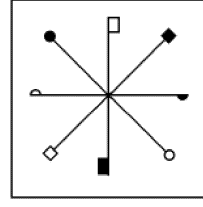
(E) अनुत्तरित प्रश्न

- 17 राज्यपाल के रूप में नियुक्ति के लिए निम्नलिखित में से कौन सी आवश्यक योग्यता/शर्त नहीं है?

- (A) वह भारत का नागरिक होना चाहिए
(B) वह 35 वर्ष की आयु पूरी कर चुका हो।
(C) वह संसद के किसी भी सदन का सदस्य नहीं होना चाहिए
(D) वह उस राज्य का निवासी होना चाहिए जहाँ उसकी नियुक्ति की जा रही है।

(E) अनुत्तरित प्रश्न

- 10 Which one of the following figures is the correct water image of the given figure(X)?



(X)

- (A) (B) (C) (D)

(E) Question not attempted

- 11 Calcite deposits are found in which place in Rajasthan? (Choose the most appropriate option from below)

- (A) Sirohi (B) Bharatpur
(C) Dholpur (D) Alwar

(E) Question not attempted

- 12 The beneficiaries of the “Indira Gandhi Urban Credit Card Scheme” are:

- (A) Women working in corporate offices in Rajasthan
(B) Blue-collared bank employees in Rajasthan
(C) Street vendors in urban areas of Rajasthan
(D) People working as house-help in urban areas of Rajasthan

(E) Question not attempted

- 13 According to the Economic Review (2023-24), as per the second advance estimates, the per capita income at current prices for the year 2023-24 is estimated to be:-

- (A) ₹ 1,76,240 (B) ₹ 1,50,653
(C) ₹ 1,67,964 (D) ₹ 1,79,080

(E) Question not attempted

- 14 Who appoints the Prime Minister of India? (Choose the most appropriate option from below)

- (A) Parliament (B) President
(C) Lok Sabha (D) Citizens of India

(E) Question not attempted

- 15 Who administers the oath of office to the President of India before he enters office?

- (A) Speaker (B) Vice President of India
(C) Chief Justice of India (D) Prime Minister

(E) Question not attempted

- 16 In whom is the executive power of State vested?

- (A) Home Minister
(B) Chief Minister
(C) Chief Justice of Supreme Court
(D) Governor
(E) Question not attempted

- 17 Which of the following is NOT an essential qualification/condition for appointment as a Governor?

- (A) He should be a citizen of India.
(B) He must have completed the age of 35 years.
(C) He must not be a member of either House of Parliament.
(D) He should be a domicile of the state to which he is being appointed.
(E) Question not attempted

- 18 निम्नलिखित में से कौन राजस्थान के प्रथम मुख्य सचिव थे?
(A) श्री एस.डब्ल्यू. शिवेशकर (B) श्री के. राधाकृष्णन
(C) श्री वी. नारायण (D) श्री बी. जी. राव
(E) अनुत्तरित प्रश्न
- 19 किस संवैधानिक संशोधन अधिनियम ने दो या दो से अधिक राज्यों के लिए एक ही व्यक्ति को राज्यपाल के रूप में नियुक्त करने की सुविधा प्रदान की?
(A) चौथा (B) छठा
(C) पाँचवां (D) सातवां
(E) अनुत्तरित प्रश्न
- 20 नीचे दो कथन दिए गए हैं:
कथन I: राज्यपाल केवल उन्हीं व्यक्तियों को मंत्री नियुक्त करता है जिनकी सिफारिश मुख्यमंत्री द्वारा की जाती है।
कथन II: मुख्यमंत्री मंत्रियों के बीच विभागों का आवंटन और फेरबदल करते हैं।
उपरोक्त कथनों के आलोक में, नीचे दिए गए विकल्पों में से सबसे उपयुक्त उत्तर चुनें:
(A) कथन I और कथन II दोनों सही हैं
(B) कथन I और कथन II दोनों गलत हैं
(C) कथन I सही है लेकिन कथन II गलत है
(D) कथन I गलत है लेकिन कथन II सही है
(E) अनुत्तरित प्रश्न
- 21 राजस्थान विधान सभा के प्रथम अध्यक्ष/सभापति कौन थे?
(A) पूनम चंद विश्वाई (B) रामनिवास मिर्धा
(C) राम किशोर व्यास (D) नरोत्तम लाल जोशी
(E) अनुत्तरित प्रश्न
- 22 निम्नलिखित में से कौन सा मानव पाचन तंत्र का अंग नहीं है? (निम्न में से सबसे उपयुक्त विकल्प चुनें)
(A) ग्रसनली (B) ग्रासनली
(C) मलाशय (D) श्वासनली
(E) अनुत्तरित प्रश्न
- 23 निम्नलिखित में से कौन सा एक संक्रामक रोग नहीं है? (निम्न में से सबसे उपयुक्त विकल्प चुनें)
(A) टायफाइड (B) कैसर
(C) क्षय रोग (D) हैज़ा
(E) अनुत्तरित प्रश्न
- 24 भूमि की जैविक क्षमता का वितरण जो अंततः रेगिस्तान जैसी स्थिति पैदा कर सकता है उसे कहा जाता है:- (निम्न में से सबसे उपयुक्त विकल्प चुनें)
(A) जलवायु परिवर्तन (B) मरुस्थलीकरण
(C) भूमि की हानि (D) जैविक हानि
(E) अनुत्तरित प्रश्न
- 25 प्राकृतिक पर्यावरण की भौतिक, रासायनिक या जैविक विशेषताओं में अवांछनीय परिवर्तन को समझाने के लिए निम्नलिखित में से किस शब्द का उपयोग किया जाता है?
(A) महामारी (B) सर्वव्यापी
(C) प्रदूषण (D) गुणवत्ता
(E) अनुत्तरित प्रश्न
- 26 राज्य आपदा प्रबंधन प्राधिकरण का नेतृत्व कौन करता है? (निम्न में से सबसे उपयुक्त विकल्प चुनें)
(A) राज्यपाल
(B) राज्य के मुख्य सचिव
(C) मुख्यमंत्री
(D) उच्च न्यायालय के मुख्य न्यायाधीश
(E) अनुत्तरित प्रश्न
- 18 Who among the following was the first Chief Secretary of Rajasthan?
(A) Shri S.W. Shiveshkar (B) Shri K. Radhakrishnan
(C) Shri V. Narayan (D) Shri B. G. Rao
(E) Question not attempted
- 19 Which Constitutional Amendment Act facilitated the appointment of the same person as a Governor for two or more states?
(A) 4th (B) 6th
(C) 5th (D) 7th
(E) Question not attempted
- 20 Given below are two statements:
Statement I: The Governor appoints only those persons as ministers who are recommended by the Chief Minister.
Statement II: Chief Minister allocates and reshuffles the portfolios among ministers.
In the light of the above statements, choose the most appropriate answer from the options given below:
(A) Both Statement I and Statement II are correct
(B) Both Statement I and Statement II are incorrect
(C) Statement I is correct but Statement II is incorrect
(D) Statement I is incorrect but Statement II is correct
(E) Question not attempted
- 21 Who was the first speaker of the Rajasthan Legislative Assembly?
(A) Poonam Chand Vishnoi
(B) Ram Niwas Mirdha
(C) Ram Kishore Vyas
(D) Narottam Lal Joshi
(E) Question not attempted
- 22 Which of the following is not an organ in the human digestive system? (Choose the most appropriate option from below)
(A) Pharynx (B) Esophagus
(C) Rectum (D) Trachea
(E) Question not attempted
- 23 Which of the following is NOT an infectious disease? (Choose the most appropriate option from below)
(A) Typhoid (B) Cancer
(C) Tuberculosis (D) Cholera
(E) Question not attempted
- 24 The distribution of the biological potential of the land which can ultimately lead to desert like condition is termed as:- (Choose the most appropriate option from below)
(A) Climate change (B) Desertification
(C) Loss of land (D) Biological loss
(E) Question not attempted
- 25 Which of the following terms is used to explain the undesirable change in the physical, chemical or biological characteristics of natural environment?
(A) Epidemics (B) Pandemic
(C) Pollution (D) Quality
(E) Question not attempted
- 26 The "State Disaster Management Authority" is headed by:- (Choose the most appropriate option from below)
(A) Governor
(B) Chief Secretary of the State
(C) Chief Minister
(D) Chief Justice of High Court
(E) Question not attempted

- 27 उस सुपर चक्रवात का नाम पहचानें जिसने मई, 2020 में पश्चिम बंगाल और ओडिशा को अत्यधिक नुकसान पहुंचाया।
(A) अम्फान (B) रीता
(C) कैटरिना (D) फानी
(E) अनुत्तरित प्रश्न
- 28 1984 में गैस/रासायनिक दुर्घटना से सम्बंधित राज्य था:-
(A) राजस्थान (B) उत्तर प्रदेश
(C) मध्य प्रदेश (D) उत्तराखंड
(E) अनुत्तरित प्रश्न
- 29 निम्नलिखित में से किसे किसी राज्य से एक क्षेत्र को अलग करके एक नया राज्य बनाने का अधिकार है? (निम्न में से सबसे उपयुक्त विकल्प चुनें)
(A) प्रधानमंत्री (B) सुप्रीम कोर्ट
(C) संसद (D) मुख्यमंत्री
(E) अनुत्तरित प्रश्न
- 30 मूल भारतीय संविधान को प्रवाहमयी इटैलिक शैली में किसके द्वारा हस्तलिखित किया गया था?
(A) प्रेम बिहारी नारायण रायज़ादा
(B) एच.वी.आर. अयंगर
(C) बी. एन. राव
(D) डॉ. के.एम. मुंशी
(E) अनुत्तरित प्रश्न
- 31 भारत के प्रथम राष्ट्रपति कौन थे?
(A) मौलाना अबुल कलाम आज़ाद
(B) डॉ. राजेंद्र प्रसाद
(C) डॉ. भीमराव अंबेडकर
(D) सरदार वल्लभ भाई पटेल
(E) अनुत्तरित प्रश्न
- 32 संविधान सभा ने अपनी पहली सत्र बैठक आयोजित की थी:
(A) 9 नवंबर 1946 को (B) 19 दिसंबर 1946 को
(C) 9 दिसंबर 1946 को (D) 19 नवंबर 1946 को
(E) अनुत्तरित प्रश्न
- 33 यदि कोई पीआईओ अनजाने में छूट वाली जानकारी घोषित करता है तो क्या सद्भावना प्रावधान के तहत कार्रवाई लागू होगी? (निम्न में से सबसे उपयुक्त विकल्प चुनें)
(A) हाँ, यह 'आरटीआई अधिनियम' या उसके तहत किसी नियम के तहत किसी भी अधिकारी की किसी भी कार्रवाई पर लागू होता है।
(B) नहीं, यह लागू नहीं होगा।
(C) "सद्भावना से की गई कार्रवाई" का संरक्षण किसी भी पीआईओ पर लागू नहीं होता है।
(D) नहीं, यह केवल 'आरटीआई अधिनियम, 2005' के तहत जानकारी देने से इनकार करने पर लागू होता है।
(E) अनुत्तरित प्रश्न
- 34 अरावली पर्वत श्रृंखला निम्नलिखित में से किस भूभाग का हिस्सा है? (निम्न में से सबसे उपयुक्त विकल्प चुनें)
(A) अंगारालैंड (B) गोंडवाना भूमि
(C) हिमालय क्षेत्र (D) पूर्वांचल
(E) अनुत्तरित प्रश्न
- 35 निम्नलिखित में से कौन-सा एक, राजस्थान में जलविभाजक की तरह कार्य करता है? (निम्न में से सबसे उपयुक्त विकल्प चुनें)
(A) हिमालय (B) पश्चिमी घाट
(C) अरावली (D) पूर्वी घाट
(E) अनुत्तरित प्रश्न
- 27 Identify the name of the super cyclone that caused extreme damage to West Bengal and Odisha in May, 2020.
(A) Amphan (B) Rita
(C) Katarina (D) Fani
(E) Question not attempted
- 28 The state associated with gas/chemical accident in 1984 was:-
(A) Rajasthan (B) Uttar Pradesh
(C) Madhya Pradesh (D) Uttarakhand
(E) Question not attempted
- 29 Who among the following is empowered to form a new state by separation of territory from any state? (Choose the most appropriate option from below)
(A) Prime Minister (B) Supreme Court
(C) Parliament (D) Chief Minister
(E) Question not attempted
- 30 The original Indian Constitution was handwritten in a flowing italic style by:-
(A) Prem Bihari Narayan Raizada
(B) H.V.R. Iyengar
(C) B. N. Rao
(D) Dr. K.M. Munshi
(E) Question not attempted
- 31 Who was the first President of India?
(A) Maulana Abul Kalam Azad
(B) Dr. Rajendra Prasad
(C) Dr. Bhimrao Ambedkar
(D) Sardar Vallabh Bhai Patel
(E) Question not attempted
- 32 The Constituent Assembly held its first session meeting on:-
(A) November 9, 1946 (B) December 19, 1946
(C) December 9, 1946 (D) November 19, 1946
(E) Question not attempted
- 33 Would the action in good faith provision be applicable if a PIO unknowingly declares exempted information? (Choose the most appropriate option from below)
(A) Yes, it applies to any action of any official under the 'RTI Act' or any rule there under.
(B) No, it will not be applicable.
(C) Protection of the "action in good faith" is not applicable to a PIO at all.
(D) No, it only applies to refusal to give in information under the 'RTI Act, 2005.'
(E) Question not attempted
- 34 The Aravalli mountain range is a part of which of the following landmasses? (Choose the most appropriate option from below)
(A) Angaraland (B) Gondwana land
(C) Himalayan region (D) Purvanchals
(E) Question not attempted
- 35 Which one of the following acts as a water divide in Rajasthan? (Choose the most appropriate option from below)
(A) Himalayas (B) Western Ghats
(C) Aravalli (D) Eastern Ghats
(E) Question not attempted

- 36 राजस्थान में लेटराइट मिट्टी के बारे में निम्नलिखित में से कौन सा कथन सही नहीं है?
 (A) इसका निर्माण क्रिस्टलीय एवं रूपांतरित चट्टानों से होता है।
 (B) इस मिट्टी में नाइट्रोजन, फास्फोरस तथा ह्यूमस पर्याप्त मात्रा में होते हैं।
 (C) लोहे की उपस्थिति के कारण यह लाल दिखता है।
 (D) यह मिट्टी डूंगरपुर, उदयपुर के मध्य तथा दक्षिणी भाग में पाई जाती है।
 (E) अनुत्तरित प्रश्न
- 37 निम्नलिखित में से किस पेड़ को 'थार का कल्पवृक्ष' कहा जाता है?
 (A) खजूर (B) बबूल
 (C) नीम (D) खेजड़ी
 (E) अनुत्तरित प्रश्न
- 38 निम्न में से राजस्थान की सबसे ऊँची चोटी कौन सी है?
 (A) दिलवाड़ा (B) माउंट आबू
 (C) गुरुशिखर (D) तारागढ़
 (E) अनुत्तरित प्रश्न
- 39 भारत की सबसे बड़ी स्थलबद्ध खारे पानी की झील राजस्थान में है। निम्नलिखित में से यह कौन सी है?
 (A) सांभर (B) डीडवाना
 (C) लूणकरणसर (D) पचपदरा
 (E) अनुत्तरित प्रश्न
- 40 2011 की जनगणना के अनुसार राजस्थान का कौन सा जिला सर्वाधिक साक्षर है?
 (A) जालोर (B) कोटा
 (C) झुंझुनू (D) सीकर
 (E) अनुत्तरित प्रश्न
- 41 किस परियोजना के तहत राष्ट्रीय राजमार्ग संख्या-8 को जयपुर से अजमेर तक 6 लेन में उन्नत किया गया?
 (A) नोर्थ साउथ कॉरिडोर (B) ईस्ट वेस्ट कॉरिडोर
 (C) स्वर्णिम चतुर्भुज (D) राज्य राजमार्ग
 (E) अनुत्तरित प्रश्न
- 42 2023-24 में, "इंदिरा गांधी शहरी रोजगार गारंटी योजना" के तहत गारंटीकृत कार्य दिवसों की संख्या बढ़ा दी गई:- (निम्न में से सबसे उपयुक्त विकल्प चुनें)
 (A) 110 कार्य दिवस (B) 125 कार्य दिवस
 (C) 140 कार्य दिवस (D) 160 कार्य दिवस
 (E) अनुत्तरित प्रश्न
- 43 निम्नलिखित में से गाय की किस नस्ल को "राजस्थान की कामधेनु" के रूप में जाना जाता है?
 (A) थारपारकर (B) राठी
 (C) नागौरी (D) मालवी
 (E) अनुत्तरित प्रश्न
- 44 निम्नलिखित में से कौन सी महिला किसानों के सशक्तिकरण के लिए राजस्थान कृषि विभाग द्वारा की गई पहल है?
 1. महिला किसानों तक कृषि प्रौद्योगिकी के प्रसार के लिए महिला किसानों के लिए प्रशिक्षण का प्रावधान।
 2. कृषि शिक्षा प्राप्त करने वाली लड़कियों को प्रोत्साहन।
 3. महिला किसानों को कीमत पर बीज मिनी किट का वितरण।
 4. राजस्थान की प्रत्येक ग्राम पंचायत में सभी महिला किसानों को ट्रैक्टर उपलब्ध कराना।
 निम्न में से सबसे उपयुक्त विकल्प चुनें:
 (A) 1 और 2 दोनों सही हैं। (B) सभी 1, 2, 3 और 4 सही हैं।
 (C) 3 और 4 दोनों सही हैं। (D) 1 और 4 दोनों सही हैं।
 (E) अनुत्तरित प्रश्न
- 36 Which of the following statements is NOT correct about laterite soil in Rajasthan?
 (A) It is formed by the crystalline and metamorphic rocks.
 (B) This soil contains enough quantity of nitrogen, phosphorus and humus.
 (C) It looks red due to the presence of Iron.
 (D) This soil is found in Dungarpur, central and southern part of Udaipur.
 (E) Question not attempted
- 37 Which one of the following trees is known as the 'Kalpvriksha of Thar'?
 (A) Date Palm (B) Babool
 (C) Neem (D) Khejadi
 (E) Question not attempted
- 38 Which of the following is the highest peak of Rajasthan?
 (A) Dilwara (B) Mount Abu
 (C) Guru Shikhar (D) Taragarh
 (E) Question not attempted
- 39 The largest inland salt water lake of India is in Rajasthan. Which one of the following is it?
 (A) Sambhar (B) Didwana
 (C) Lunkaransar (D) Pachpadra
 (E) Question not attempted
- 40 According to the 2011 census, which district in Rajasthan is the most literate?
 (A) Jalore (B) Kota
 (C) Jhunjhunu (D) Sikar
 (E) Question not attempted
- 41 Under which project was the National Highway No.-8 upgraded to 6 lanes from Jaipur to Ajmer?
 (A) North South Corridor (B) East West Corridor
 (C) Golden Quadrilateral (D) State Highway
 (E) Question not attempted
- 42 In 2023-24, the number of working days guaranteed under the "Indira Gandhi Shahari Rojgar Guarantee Scheme" were increased to: (Choose the most appropriate option from below)
 (A) 110 working days (B) 125 working days
 (C) 140 working days (D) 160 working days
 (E) Question not attempted
- 43 Which of the following breeds of cow is known as the "Kamdheni of Rajasthan"?
 (A) Tharparkar (B) Rathi
 (C) Nagori (D) Malawi
 (E) Question not attempted
- 44 Which of the following is an initiative taken by the Rajasthan Agriculture Department for women farmers' empowerment?
 1. Provision of training for women farmers for dissemination of agricultural technology to fellow women farmers.
 2. Incentive to girls pursuing agricultural education.
 3. Distribution of seed mini-kits to women farmers on price.
 4. Provision of tractors to all women farmers in each Gram Panchayat of Rajasthan.
 Choose the most appropriate option from below:
 (A) Both 1 and 2 are correct.
 (B) All 1, 2, 3 and 4 are correct.
 (C) Both 3 and 4 are correct.
 (D) Both 1 and 4 are correct.
 (E) Question not attempted

- 45 निम्नलिखित में से कौन सा एक प्रमुख संस्थान है जो भारत में ग्रामीण विकास पर प्रशिक्षण प्रदान करता है और अनुसंधान करता है?
 (A) राष्ट्रीय ग्रामीण विकास संगठन
 (B) राष्ट्रीय ग्रामीण संस्थान
 (C) ग्रामीण विकास संस्थान
 (D) राष्ट्रीय ग्रामीण विकास एवं पंचायती राज संस्थान
 (E) अनुत्तरित प्रश्न
- 46 दी गई श्रृंखला में अगला पद ज्ञात कीजिए:
 BZM, DXN, FVO, HTP, ?
 (A) JRP (B) JRQ
 (C) JQS (D) RJQ
 (E) अनुत्तरित प्रश्न
- 47 विषम का चयन कीजिए :
 QT, LO, SP, CF
 (A) QT (B) LO
 (C) SP (D) CF
 (E) अनुत्तरित प्रश्न
- 48 निम्नलिखित शब्दों के युग्म में से वह युग्म ढूँढ़ें जो अन्य से भिन्न है:
 (A) गाय-दूध (B) मुर्गी-अण्डा
 (C) भेड़-ऊन (D) पक्षी-उड़ना
 (E) अनुत्तरित प्रश्न
- 49 नीचे दी गई संख्याएँ, एक को छोड़कर एक निश्चित तरीके से समान हैं। विषम का चयन कीजिए।
 (A) 57 (B) 114
 (C) 108 (D) 133
 (E) अनुत्तरित प्रश्न
- 50 वह युग्म ज्ञात कीजिए जो अन्य तीन से भिन्न है।
 (A) ऊँट-ऊँचा (B) कछुआ-तेज
 (C) बाघ-मांसाहारी (D) पक्षी-चहचहाहट
 (E) अनुत्तरित प्रश्न
- 51 नीचे दिए गए शब्द एक को छोड़कर किसी न किसी तरह से समान हैं। विषम का चयन कीजिए :
 (A) केला (B) अंजीर
 (C) आड़ू (D) आलू
 (E) अनुत्तरित प्रश्न
- 52 यदि एक निश्चित कूट भाषा में 'PENTAGON' को 'DQSOFBMP' और 'BOUTIQUE' को 'NCSVPJDV' लिखा जाता है, तो उसी कूट भाषा में 'BEAUTIFY' कैसे लिखा जाएगा?
 (A) CDTBUHXG (B) DCBTHUGX
 (C) DCTBHUXG (D) CDTBHUXY
 (E) अनुत्तरित प्रश्न
- 53 यदि किसी कोड (कूट) भाषा में 'PRISON' को 'RPKQQL' लिखा जाता है, तो उसी कोड (कूट) भाषा में 'CRACKS' कैसे लिखा जाएगा?
 (A) ATYEIU (B) EPCASK
 (C) EPCAMQ (D) EPACQM
 (E) अनुत्तरित प्रश्न
- 45 Which of the following is a premier institute which imparts training and undertakes research on rural development in India?
 (A) National Rural Development Organisation
 (B) National Rural Institute
 (C) Rural Institute of Development
 (D) National Institute of Rural Development and Panchayati Raj
 (E) Question not attempted
- 46 Find the next term in the given series:
 BZM, DXN, FVO, HTP, ?
 (A) JRP (B) JRQ
 (C) JQS (D) RJQ
 (E) Question not attempted
- 47 Choose the 'odd' one out:
 QT, LO, SP, CF
 (A) QT (B) LO
 (C) SP (D) CF
 (E) Question not attempted
- 48 Amongst the following pair of words, find the one which is different from the others:
 (A) Cow-Milk (B) Hen-Egg
 (C) Sheep-Wool (D) Bird-Fly
 (E) Question not attempted
- 49 The numbers given below are alike in a certain manner except one. Choose the odd one out.
 (A) 57 (B) 114
 (C) 108 (D) 133
 (E) Question not attempted
- 50 Find the pair which is different from the other three.
 (A) Camel-Tall (B) Turtle-Fast
 (C) Tiger-Carnivore (D) Bird-Chirp
 (E) Question not attempted
- 51 The words given below are alike in some manner except one, spot the odd one out.
 (A) Banana (B) Fig
 (C) Peach (D) Potato
 (E) Question not attempted
- 52 If in a certain code language, 'PENTAGON' is written as 'DQSOFBMP' and 'BOUTIQUE' is written as 'NCSVPJDV', how would 'BEAUTIFY' be written in the same code language?
 (A) CDTBUHXG (B) DCBTHUGX
 (C) DCTBHUXG (D) CDTBHUXY
 (E) Question not attempted
- 53 If in a code language 'PRISON' is written as 'RPKQQL', then how would 'CRACKS' be written in the same code language?
 (A) ATYEIU (B) EPCASK
 (C) EPCAMQ (D) EPACQM
 (E) Question not attempted

- 54 एक निश्चित कोड (कूट) भाषा में, 'ARGENTINA' को 'βγ#?!\$=!β', के रूप में लिखा जाता है। उस कोड (कूट) भाषा में 'ENGINE' को कैसे लिखा जाएगा?
(A) !?#=?! (B) ?!#=?!
(C) ?!=#!? (D) #!?!=!
(E) अनुत्तरित प्रश्न
- 55 यदि 'AMPLE' को '47' के रूप में कोडित (कूटित) किया जाता है और 'SAMPLE' को '66' के रूप में कोडित किया जाता है, तो 'AMPLIFY' को कैसे कोडित (कूटित) किया जाएगा?
(A) 113 (B) 75
(C) 83 (D) 82
(E) अनुत्तरित प्रश्न
- 56 यदि 'RIPE' को 8295, 'NATO' को 6347 और 'PANTHER' को 9364158 कोड किया जाता है, तो 'PRINTER' के लिए कोड क्या होगा?
(A) 9826458 (B) 8926458
(C) 8924685 (D) 9846285
(E) अनुत्तरित प्रश्न
- 57 अपनी पत्नी को एक महिला का परिचय देते हुए, राज ने कहा, 'उसकी माँ मेरी माँ के पिता की पत्नी है।' राज का महिला के पिता से क्या संबंध है?
(A) चचेरा भाई (B) नवासा
(C) बेटा (D) भतीजा
(E) अनुत्तरित प्रश्न
- 58 सुरेंद्र ने अजय से कहा, 'वह लड़की जो बैडमिंटन खेल रही है वह मेरी माँ के ससुर की पोती है, जिनका केवल एक बेटा था और कोई बेटी नहीं थी।' लड़की का सुरेंद्र से क्या संबंध है?
(A) बहन (B) बेटी
(C) भतीजी (D) पत्नी
(E) अनुत्तरित प्रश्न
- 59 'आरटीआई अधिनियम, 2005' के लागू होने के बाद, 'सूचना की स्वतंत्रता अधिनियम, 2002' की स्थिति क्या है? (निम्न में से सबसे उपयुक्त विकल्प चुनें)
(A) इसे निरस्त कर दिया गया है।
(B) जैसे ही केंद्र सरकार इसके तहत नियम बनाएगी, यह लागू हो जाएगा।
(C) केंद्र सरकार ने राज्य सरकार को इसे लागू करने की सलाह दी है।
(D) यह मौजूद है और जिस हद तक 'आरटीआई अधिनियम, 2005' विरोधाभासी है, यह बाद वाले को खत्म कर देगा।
(E) अनुत्तरित प्रश्न
- 60 आरटीआई अधिनियम का कौन सा प्रावधान आवेदनों के हस्तांतरण के बारे में बताता है?
(A) धारा 5(3) (B) धारा 6(3)
(C) धारा 7(5) (D) धारा 8(1)
(E) अनुत्तरित प्रश्न
- 61 सूचना का अधिकार अधिनियम, 2005 अधिनियमित किया गया था:
(A) 22 जून 2005 को (B) 22 जुलाई 2005 को
(C) 2 अक्टूबर 2005 को (D) 15 जून 2005 को
(E) अनुत्तरित प्रश्न
- 62 निम्नलिखित में से किस लोक देवता को मुसलमान 'रामसा-पीर' के रूप में पूजते हैं?
(A) गोगाजी (B) मल्लीनाथजी
(C) रामदेवजी (D) देवनारायणजी
(E) अनुत्तरित प्रश्न
- 54 In a certain code language, 'ARGENTINA' is written as 'βγ#?!\$=!β', how would 'ENGINE' be written in that code language?
(A) !?#=?! (B) ?!#=?!
(C) ?!=#!? (D) #!?!=!
(E) Question not attempted
- 55 If 'AMPLE' is coded as '47' and 'SAMPLE' is coded as '66', then how will 'AMPLIFY' be coded?
(A) 113 (B) 75
(C) 83 (D) 82
(E) Question not attempted
- 56 If 'RIPE' is coded as 8295, 'NATO' is coded as 6347 and 'PANTHER' is coded as 9364158, what will be the code for 'PRINTER'?
(A) 9826458 (B) 8926458
(C) 8924685 (D) 9846285
(E) Question not attempted
- 57 Introducing a woman to his wife, Raj said, 'Her mother is the wife of my mother's father'. What is the relation of Raj with the woman's father?
(A) Cousin (Paternal) (B) Grandson (Maternal)
(C) Son (D) Nephew
(E) Question not attempted
- 58 Surendra said to Ajay, "That girl playing badminton is the grand-daughter of my mother's father-in-law who had only one son and no daughter." How is the girl related to Surendra?
(A) Sister (B) Daughter
(C) Niece (D) Wife
(E) Question not attempted
- 59 After the enactment of the 'RTI Act, 2005', what is the status of the 'Freedom of Information Act, 2002'? (Choose the most appropriate option from below)
(A) It has been repealed.
(B) It will become operative as soon as the Central Government makes rules under it.
(C) The Central Government has advised the State Government to implement it.
(D) It exists and to the extent the 'RTI Act, 2005' contradicts, it will supersede the latter.
(E) Question not attempted
- 60 Which provision of the RTI Act explains about transfer of applications?
(A) Section 5(3) (B) Section 6(3)
(C) Section 7(5) (D) Section 8(1)
(E) Question not attempted
- 61 The Right to Information Act, 2005 was enacted on:-
(A) 22 June 2005 (B) 22 July 2005
(C) 2 October 2005 (D) 15 June 2005
(E) Question not attempted
- 62 Which of the following folk deities is worshipped as "Ramsa-Pir" by the muslims?
(A) Gogaji (B) Mallinathji
(C) Ramdevji (D) Devnarayanji
(E) Question not attempted

- 63 उस खयाल का नाम बताइए जो समसामयिक समाचार, कविता, संगीत, गीत और नृत्य का सुंदर मिश्रण है।
 (A) हेला खयाल (B) जयपुरी खयाल
 (C) कन्हैया खयाल (D) शेखावाटी खयाल
 (E) अनुत्तरित प्रश्न
- 64 उस प्रसिद्ध 'स्वांग' कलाकार का नाम बताइए जिसने भारत उत्सव में राजस्थान का प्रतिनिधित्व किया था ?
 (A) जानकी लाल भांड (B) लच्छीराम
 (C) मांगीलाल मिस्त्री (D) गोपी किशन भट्ट
 (E) अनुत्तरित प्रश्न
- 65 फड़ कलाकार श्रीलाल जोशी का संबंध है:-
 (A) सीकर से (B) जयपुर से
 (C) चूरू से (D) भीलवाड़ा से
 (E) अनुत्तरित प्रश्न
- 66 निम्नलिखित में से किसने चार खंडों वाला इतिहास 'वंश भास्कर' लिखा था?
 (A) सूर्यमल्ल मिश्रण (B) कविराज श्यामलदास
 (C) गोबिंद गंगाधर पांडे (D) दशोरा दुर्लभ राम
 (E) अनुत्तरित प्रश्न
- 67 'एनल्स एंड एंटीक्विटीज़ ऑफ राजस्थान' के लेखक का नाम बताइए।
 (A) कर्नल जेम्स टॉड (B) जेम्स स्कinner
 (C) जेम्स प्रिंसेप (D) अलेक्जेंडर कनिंघम
 (E) अनुत्तरित प्रश्न
- 68 सीकर के रेवासा गांव की तलहटी में कौन सा मंदिर स्थित है?
 (A) डिग्गी कल्याणजी (B) जीणमाता
 (C) कैला देवी (D) खाटू श्यामजी
 (E) अनुत्तरित प्रश्न
- 69 नीचे एक कथन और उसके बाद दो धारणाएँ दी गई हैं। केवल कथन के आधार पर, निर्णय लें कि कौन सी धारणा कथन में निहित है/हैं।
कथन: जब लोग पूछते हैं कि आपके घर को किसने पेंट किया है, तो आप जानते हैं कि आपका घर उत्कृष्ट रूप से पेंट किया गया है।
धारणाएँ:
 I लोग चाहते हैं कि आप उन्हें उत्कृष्ट पेंटिंग के मानदंड बताएं।
 II अगर आपके घर की पेंटिंग अच्छी नहीं है तो लोग आपके पेंटर के बारे में नहीं पूछते।
 (A) केवल I ही निहित है
 (B) केवल II ही निहित है
 (C) I और II दोनों निहित हैं
 (D) न तो I और न ही II निहित है
 (E) अनुत्तरित प्रश्न
- 70 नीचे दिए गए प्रश्न में, एक कथन के बाद I और II क्रमांकित दो धारणाएँ दी गई हैं। कथन और निम्नलिखित धारणाओं के आधार पर, निर्णय लें कि कौन सी धारणा निहित है/हैं।
कथन: एक बस एजेंसी ने बोर्ड बैठक के बाद यात्री किराया 10% बढ़ाने का निर्णय लिया है।
धारणाएँ:
 I सीटों की मांग में भारी गिरावट आएगी।
 II अन्य बस एजेंसियाँ भी अपना किराया बढ़ाएंगी।
 (A) केवल I ही निहित है
 (B) केवल II ही निहित है
 (C) I और II दोनों निहित हैं
 (D) न तो I और न ही II निहित है
 (E) अनुत्तरित प्रश्न

- 63 Name the Khyal which is a beautiful fusion of contemporary news, poetry, music, songs and dance.
 (A) Hela Khyal (B) Jaipuri Khyal
 (C) Kanhaiya Khyal (D) Shekhawati Khyal
 (E) Question not attempted
- 64 Name the famous 'Swaang' artist who has represented Rajasthan in Bharat Utsav ?
 (A) Janki Lal Bhand (B) Lachhiram
 (C) Mangilal Mistri (D) Gopi Kishan Bhatt
 (E) Question not attempted
- 65 Shrilal Joshi, a phad artist belongs to :
 (A) Sikar (B) Jaipur
 (C) Churu (D) Bhilwara
 (E) Question not attempted
- 66 Who among the following wrote the 'Vamsha Bhaskar', a four volume history?
 (A) Suryamal Mishran
 (B) Kaviraj Shyamaldas
 (C) Gobind Gangadhar Pandey
 (D) Dashora Durlabh Ram
 (E) Question not attempted
- 67 Name the author of 'Annals and Antiquities of Rajasthan'.
 (A) Col. James Tod (B) James Skinner
 (C) James Prinsep (D) Alexander Cunningham
 (E) Question not attempted
- 68 Which temple is situated at the foothills in Rewasa village of Sikar?
 (A) Diggi Kalyanji (B) Jeenmata
 (C) Kaila Devi (D) Khatu Shyamji
 (E) Question not attempted
- 69 Below is a statement followed by two assumptions. Based only on the statement, decide which of the assumptions is/are implicit in the statement.
Statement: When people ask who painted your home, you know that your home is excellently painted.
Assumptions:
 I. People want you to tell them the criteria for excellent painting.
 II. People do not ask about your painter if the painting of your home is not good.
 (A) Only I is implicit
 (B) Only II is implicit
 (C) Both I and II are implicit
 (D) Neither I nor II is implicit
 (E) Question not attempted
- 70 In the question given below, a statement is followed by two assumptions numbered I and II. Based on the statement and following assumptions, decide which of the assumptions is/are implicit.
Statement: A bus agency has decided to increase the passenger fare by 10% after the board meeting.
Assumptions:
 I. The demand for the seats will fall drastically.
 II. Other bus agencies will also hike their fares.
 (A) Only I is implicit
 (B) Only II is implicit
 (C) Both I and II are implicit
 (D) Neither I nor II is implicit
 (E) Question not attempted

- 71 नीचे एक कथन और उसके बाद दो धारणाएँ दी गई हैं। केवल कथन के आधार पर, निर्णय लें कि कौन सी धारणा कथन में निहित है/हैं।
कथन: मैं स्थान X पर इंटरनेट का उपयोग नहीं कर सकता।
धारणाएँ:
- स्थान X पर इंटरनेट सुविधा उपलब्ध नहीं है।
 - आजकल इंटरनेट ठीक से काम नहीं कर रहा है।
- केवल I ही निहित है
 - केवल II ही निहित है
 - I और II दोनों निहित हैं
 - न तो I और न ही II निहित है
 - अनुत्तरित प्रश्न
- 72 नीचे एक कथन और उसके बाद दो तर्क I और II दिए गए हैं। आपको यह तय करना होगा कि कोई विशेष तर्क मजबूत है या नहीं।
कथन: क्या हर लड़की को आत्मरक्षा का प्रशिक्षण लेना चाहिए?
तर्क:
- नहीं। वे मर्दाना हो जाएँगी।
 - हाँ। इससे उन्हें अपने विरुद्ध अपराधियों का प्रभावी ढंग से मुकाबला करने का आत्मविश्वास मिलेगा।
- केवल तर्क I मजबूत है
 - केवल तर्क II मजबूत है
 - I और II दोनों मजबूत हैं
 - न तो I और न ही II मजबूत है
 - अनुत्तरित प्रश्न
- 73 नीचे एक कथन और उसके बाद दो तर्क I और II दिए गए हैं। आपको यह तय करना होगा कि कोई विशेष तर्क मजबूत है या नहीं।
कथन: क्या बाघों के अवैध शिकार पर प्रतिबंध हटा दिया जाना चाहिए?
तर्क:
- हाँ। शिकारी अपनी आजीविका खो रहे हैं।
 - हाँ। बाघ खतरनाक जानवर हैं और इंसानों के लिए खतरा हो सकते हैं।
- केवल तर्क I मजबूत है
 - केवल तर्क II मजबूत है
 - I और II दोनों मजबूत हैं
 - न तो I और न ही II मजबूत है
 - अनुत्तरित प्रश्न
- 74 आपको एक कथन और उसके बाद दो तर्क I और II दिए गए हैं। तय करें कि कोई विशेष तर्क मजबूत है या नहीं।
कथन: क्या तीन वर्षों में होने वाली आगामी विश्व कप श्रृंखला के लिए फुटबॉल टीम के कप्तान के स्थान पर किसी अनुभवी खिलाड़ी को नियुक्त किया जाना चाहिए?
तर्क:
- हाँ। वर्तमान कप्तान सेवानिवृत्ति के करीब है और भविष्य के लिए एक नए कप्तान को तैयार करने की जरूरत है।
 - हाँ। वर्तमान कप्तान का टीम चयन प्रक्रिया में पक्षपातपूर्ण रवैया है।
- केवल तर्क I मजबूत है
 - केवल तर्क II मजबूत है
 - I और II दोनों मजबूत हैं
 - न तो I और न ही II मजबूत है
 - अनुत्तरित प्रश्न

- 71 Below is a statement followed by two assumptions. Based only on the statement, decide which of the assumptions is/are implicit in the statement.
Statement: I cannot use internet at location X.
Assumptions:
- Internet facility is not available at location X.
 - These days the internet is not working properly.
- Only I is implicit
 - Only II is implicit
 - Both I and II are implicit
 - Neither I nor II is implicit
 - Question not attempted
- 72 Given below is one statement followed by two arguments I and II. You have to decide whether a particular argument is strong or not.
Statement: Should every girl have self-defence training?
Arguments:
- No. They will turn masculine.
 - Yes. It would give them the confidence to counter their perpetrators effectively.
- Only argument I is strong
 - Only argument II is strong
 - Both I and II are strong
 - Neither I nor II is strong
 - Question not attempted
- 73 Given below is one statement followed by two arguments I and II. You have to decide whether a particular argument is strong or not.
Statement: Should the ban on poaching tigers be lifted?
Arguments:
- Yes. The poachers are losing their livelihood.
 - Yes. The tigers are dangerous animals and could be a threat to humans.
- Only argument I is strong
 - Only argument II is strong
 - Both I and II are strong
 - Neither I nor II is strong
 - Question not attempted
- 74 You are given a statement followed by two arguments I and II. Decide whether a particular argument is strong or not.
Statement: Should the captain of the football team be replaced by a experienced player for the upcoming world cup series due in three years?
Arguments:
- Yes. The current captain is nearing retirement and a new captain needs to be nurtured for future.
 - Yes. The current captain has a partisan attitude in the team selection procedure.
- Only argument I is strong
 - Only argument II is strong
 - Both I and II are strong
 - Neither I nor II is strong
 - Question not attempted

- 75 निम्नलिखित प्रश्न में, दो कथन (a) तथा (b) और उसके बाद दो निष्कर्ष I और II दिए गए हैं। आपको कथनों को सत्य मानना है, भले ही वे सामान्यतः ज्ञात तथ्यों से भिन्न प्रतीत होते हों। आपको यह तय करना है कि दिए गए निष्कर्षों में से कौन सा, यदि कोई हो, दिए गए कथनों का अनुसरण करता है।

कथन:

- जो लोग समय के पाबंद हैं, वे जीवन में सफल होते हैं।
- शीतल ने हमेशा समय का सम्मान किया है।

निष्कर्ष:

- शीतल एक सफल व्यक्ति है।
- शीतल एक उद्यमी हैं।
- (A) केवल निष्कर्ष I अनुसरण करता है
- (B) केवल निष्कर्ष II अनुसरण करता है
- (C) या तो I या II अनुसरण करता है
- (D) I और II दोनों अनुसरण करते हैं
- (E) अनुत्तरित प्रश्न

- 76 नीचे दिए गए प्रश्न में एक कथन और उसके बाद दो निष्कर्ष I और II दिए गए हैं। कथन में दी गई सभी बातों को सत्य मानें, फिर निर्णय लें कि कौन सा निष्कर्ष उचित संदेह से परे कथन का अनुसरण करता है।

कथन: एक राज्य के मुख्यमंत्री ने अपने तीन मंत्रियों को शाम तक या तो अपना इस्तीफा सौंपने या अनुशासनात्मक कार्रवाई का सामना करने के लिए कहा। उनमें से दो ने तुरंत इस्तीफा दे दिया।

निष्कर्ष:

- शेष एक मंत्री शाम तक इस्तीफा दे देगा।
- मुख्यमंत्री उसके खिलाफ अनुशासनात्मक कार्रवाई करेंगे।
- (A) केवल निष्कर्ष I अनुसरण करता है
- (B) केवल निष्कर्ष II अनुसरण करता है
- (C) या तो I या II अनुसरण करता है
- (D) I और II दोनों अनुसरण करते हैं
- (E) अनुत्तरित प्रश्न

- 77 इस प्रश्न में एक कथन के बाद निष्कर्षों का एक समूह दिया गया है। ध्यानपूर्वक मूल्यांकन करें कि कौन सा/से निष्कर्ष कथन का तार्किक रूप से अनुसरण करता/करते हैं और सही विकल्प चुनें।

कथन: कृति हिन्दुस्तानी डांस एकेडमी से नृत्य सीखती है, वह एक संस्कारी लड़की है।

निष्कर्ष:

- इस तथ्य के अलावा कि वह नृत्य सीखती है, कृति का एक और गुण सभी के साथ उसका अच्छा व्यवहार है।
- जो लोग नृत्य सीखते हैं उनका व्यवहार अच्छा होता है।
- (A) I और II दोनों अनुसरण करते हैं
- (B) केवल I अनुसरण करता है
- (C) ना तो I ना II अनुसरण करता है
- (D) केवल II अनुसरण करता है
- (E) अनुत्तरित प्रश्न

- 75 In the following question, there are two statements (a) and (b) followed by two conclusions I and II. You have to consider the statements to be true even if they seem to be at variance from commonly known facts. You have to decide which of the given conclusions, if any, follow from the given statements.

Statement:

- All who are punctual, succeed in life.
- Sheetal has always respected time.

Conclusions:

- Sheetal is a successful person.
- Sheetal is an entrepreneur.
- (A) Only conclusion I follows
- (B) Only conclusion II follows
- (C) Either I or II follows
- (D) Both I and II follow
- (E) Question not attempted

- 76 In the question given below, there is a statement followed by two conclusions I and II. Assume everything in the statement to be true, then decide which of the conclusions follow the statement beyond reasonable doubt.

Statement: The Chief Minister of a state asked three of his ministers to either submit their resignations by the evening or face disciplinary action. Two of them resigned immediately.

Conclusions:

- The remaining one would resign by the evening.
- The Chief Minister will take disciplinary action against him.
- (A) Only conclusion I follows
- (B) Only conclusion II follows
- (C) Either I or II follows
- (D) Both I and II follow
- (E) Question not attempted

- 77 In this question, a statement is followed by a set of conclusions. Carefully assess which of the conclusion(s) logically follow(s) from the statement and choose the correct option.

Statement: Kriti learns dance from the Hindustani Dance Academy. She is a well mannered girl.

Conclusions:

- Besides the fact that she learns dance, another trait of Kriti is her nice behaviour with everyone.
- People who learn dance are bound to be well behaved.
- (A) Both I and II follow
- (B) Only I follows
- (C) Neither I nor II follows
- (D) Only II follows
- (E) Question not attempted

- 78 नीचे दिए गए प्रश्न में, एक कथन के बाद तीन क्रियाविधि I, II और III दी गई हैं। कथन में दी गई सभी बातों को सत्य मानते हुए, निर्णय लें कि सुझाए गए कार्यों में से कौन सा तार्किक रूप से अनुसरण करता है।

कथन: गंभीर धुंध (स्मॉग) के कारण शहर में फेफड़ों से संबंधित बीमारियों में उल्लेखनीय वृद्धि हुई है।

कार्रवाई के तरीके:

- जनता को सार्वजनिक परिवहन का उपयोग करने के लिए प्रोत्साहित किया जाना चाहिए।
 - अस्पतालों को स्थिति के बारे में सूचित किया जाना चाहिए और रोगियों की बड़ी अन्तर्वाह को संभालने के लिए तैयार रहने के लिए कहा जाना चाहिए।
 - स्वास्थ्य अधिकारियों के एक प्रतिनिधिमंडल को देश के राष्ट्रपति से मिलकर स्थिति की जानकारी देनी चाहिए।
- (A) केवल I और II अनुसरण करते हैं
(B) केवल I और III अनुसरण करते हैं
(C) केवल II और III अनुसरण करते हैं
(D) केवल II अनुसरण करता है
(E) अनुत्तरित प्रश्न

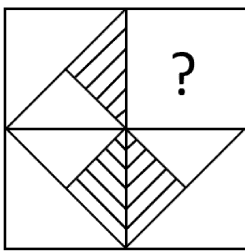
- 79 नीचे दिए गए प्रश्न में, एक कथन के बाद दो क्रियाविधि I और II दी गई हैं। कथन में दी गई जानकारी को सत्य मानते हुए, तय करें कि सुझाए गए कार्यों में से कौन सा तार्किक रूप से अनुसरण करता है।

कथन: यदि सेवानिवृत्त वरिष्ठ पुलिस अधिकारियों को एक बहुत प्रतिष्ठित विश्वविद्यालय के दीक्षांत समारोह के दौरान सुरक्षा व्यवस्था पर विचार-विमर्श करने के लिए आमंत्रित किया जाता है, तो यह वास्तव में बहुत मददगार होगा।

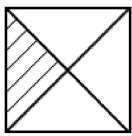
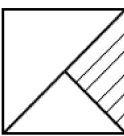
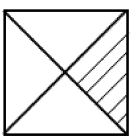
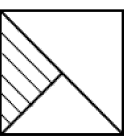
कार्रवाई के तरीके:

- प्रबंधन को सेवानिवृत्त पुलिस कर्मियों को बुलाने से पहले विश्वविद्यालय के प्रोफेसर्स की अनुमति लेनी चाहिए।
 - प्रॉक्टोरल टीम को विश्वविद्यालय की सुरक्षा बढ़ाने के लिए अनुभवी लोगों को शामिल करना चाहिए।
- (A) केवल I अनुसरण करता है
(B) केवल II अनुसरण करता है
(C) या तो I या II अनुसरण करता है
(D) I और II दोनों अनुसरण करते हैं
(E) अनुत्तरित प्रश्न

- 80 निम्नलिखित में से कौन सी आकृति चित्र(X) के पैटर्न को पूरा करेगी ?



(X)

- (A)  (B) 
- (C)  (D) 
- (E) अनुत्तरित प्रश्न

- 78 In the question given below, there is a statement followed by three courses of action I, II and III. Assuming everything given in the statement as true, decide which of the suggested course of action logically follow(s).

Statement: There is a significant increase in lung related ailments in the city due to severe smog.

Courses of Action:

- Public must be encouraged to use public transport.
 - Hospitals should be informed about the situation and asked to remain prepared to handle large inflow of patients.
 - A delegation of health officials should visit the President of the country to intimate about the situation.
- (A) Only I and II follow (B) Only I and III follow
(C) Only II and III follow (D) Only II follows
(E) Question not attempted

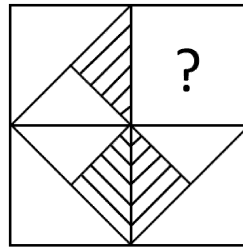
- 79 In the question given below, there is a statement followed by two courses of action I and II. Assuming the information given in the statement as true, decide which of the suggested course(s) of action logically follow(s).

Statement: If the retired senior police officers are invited to deliberate on security arrangements during the convocation ceremony of a very reputed university, it would really be of great help.

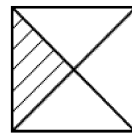
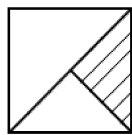
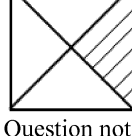
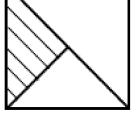
Courses of Action:

- The management should seek permission of the professors of the university before calling retired police personnels.
 - The proctoral team should involve experienced people in beefing up the security of the university.
- (A) Only I follows (B) Only II follows
(C) Either I or II follows (D) Both I and II follow
(E) Question not attempted

- 80 Which of the following figures will complete the pattern in figure(X)?



(X)

- (A)  (B) 
- (C)  (D) 
- (E) Question not attempted

- 81 भारत के किस स्टेडियम में महान क्रिकेट खिलाड़ी सचिन तेंदुलकर की प्रतिमा का अनावरण किया गया?
(A) ईडन गार्डन (B) वानखेडे स्टेडियम
(C) अरुण जेटली स्टेडियम (D) नरेंद्र मोदी स्टेडियम
(E) अनुत्तरित प्रश्न
- 82 राइजिंग राजस्थान वैश्विक निवेश शिखर सम्मेलन-2024 कहाँ आयोजित किया गया? (निम्न में से सबसे उपयुक्त विकल्प चुनें)
(A) जोधपुर (B) उदयपुर
(C) जैसलमेर (D) जयपुर
(E) अनुत्तरित प्रश्न
- 83 गगन शक्ति-2024 अभ्यास भारतीय वायु सेना द्वारा राजस्थान के किस स्थान पर आयोजित किया गया?
(A) जोधपुर (B) पोखरण
(C) अलवर (D) बाड़मेर
(E) अनुत्तरित प्रश्न
- 84 निम्नलिखित में से कौन एकमात्र भारतीय कप्तान है, पुरुष या महिला, जिसने 2005 और 2017 में भारत को दो विश्व कप क्रिकेट फाइनल में पहुंचाया है?
(A) युवराज सिंह (B) एम. एस. धोनी
(C) मिताली राज (D) हरमनप्रीत कौर
(E) अनुत्तरित प्रश्न
- 85 लैंगिक समानता को बढ़ावा देने और लिंगानुपात बढ़ाने के लिए महिला एवं बाल विकास मंत्रालय द्वारा कौन सी योजना शुरू की गई?
(A) मिशन इंद्रधनुष
(B) बेटी बचाओ बेटी पढ़ाओ योजना
(C) प्रधानमंत्री गरीब कल्याण योजना
(D) पीएम श्री योजना
(E) अनुत्तरित प्रश्न
- 86 मोमबत्ती जलाने के दौरान:-
(A) केवल भौतिक परिवर्तन होता है
(B) केवल रासायनिक परिवर्तन होता है
(C) न तो भौतिक और न ही रासायनिक परिवर्तन होता है
(D) भौतिक एवं रासायनिक दोनों परिवर्तन होते हैं
(E) अनुत्तरित प्रश्न
- 87 वे तत्व जो इलेक्ट्रॉन प्राप्त करके ऋणायन बनाते हैं, कहलाते हैं:-
(A) धातुएँ (B) अधातु
(C) आघातवर्ध्य तत्व (D) तन्य तत्व
(E) अनुत्तरित प्रश्न
- 88 निम्नलिखित में से कौन सा एम्फोटेरिक ऑक्साइड का उदाहरण है?
(A) CO_2 (B) SiO_2
(C) CrO_3 (D) PbO
(E) अनुत्तरित प्रश्न
- 89 यदि किसी वस्तु की स्थिति अनन्त पर हो, तो उसका उत्तल दर्पण द्वारा निर्मित प्रतिबिम्ब होगा:-
(A) फोकस पर दर्पण के पीछे
(B) दर्पण के ध्रुव पर
(C) अनन्त पर
(D) दर्पण के ध्रुव और फोकस के बीच
(E) अनुत्तरित प्रश्न
- 90 वह लक्षण जो F_1 पीढ़ी में स्वयं को अभिव्यक्त नहीं करता है, कहलाता है:-
(A) युग्मविकल्पी (B) अप्रभावी लक्षण
(C) प्रभावी लक्षण (D) अनुवांशिक रूप
(E) अनुत्तरित प्रश्न
- 81 In which stadium of India was the statue of the great cricket player Sachin Tendulkar unveiled?
(A) Eden Garden (B) Wankhede Stadium
(C) Arun Jaitley Stadium (D) Narendra Modi Stadium
(E) Question not attempted
- 82 Where was the Rising Rajasthan Global Investment Summit-2024 organised? (Choose the most appropriate option from below)
(A) Jodhpur (B) Udaipur
(C) Jaisalmer (D) Jaipur
(E) Question not attempted
- 83 “Gagan Shakti-2024” exercise was conducted by the Indian Air Force at which place of Rajasthan?
(A) Jodhpur (B) Pokhran
(C) Alwar (D) Barmer
(E) Question not attempted
- 84 Who among the following is the only Indian skipper, men or women, to have led India to two world cup cricket finals in 2005 and 2017?
(A) Yuvraj Singh (B) M. S. Dhoni
(C) Mithali Raj (D) Harmanpreet Kaur
(E) Question not attempted
- 85 Which scheme was launched by Ministry of Women and Child Development to promote gender equality and increase sex ratio?
(A) Mission Indradhanush
(B) Beti Bachao Beti Padhao Yojana
(C) Pradhan Mantri Garib Kalyan Yojana
(D) PM Shree Yojana
(E) Question not attempted
- 86 During the burning of a candle:-
(A) Only physical change occurs
(B) Only chemical change occurs
(C) Neither physical nor chemical change occurs
(D) Both physical and chemical changes occur
(E) Question not attempted
- 87 The elements which tend to form anions by gaining electrons are known as:-
(A) Metals (B) Non-metals
(C) Malleable elements (D) Ductile elements
(E) Question not attempted
- 88 Which of the following is an example of amphoteric oxide?
(A) CO_2 (B) SiO_2
(C) CrO_3 (D) PbO
(E) Question not attempted
- 89 If the position of an object is at infinity, its image formed by a convex mirror will be:-
(A) At the focus behind the mirror
(B) At the pole of the mirror
(C) At infinity
(D) Between the pole and the focus of the mirror
(E) Question not attempted
- 90 The character which does not express itself in F_1 generation is called:-
(A) Allelomorph (B) Recessive character
(C) Dominant character (D) Genotype
(E) Question not attempted

- 91 नीचे दिए गए प्रश्न में, एक कथन के बाद दो क्रियाविधि I और II दी गई हैं। कथन में दी गई सभी बातों को सत्य मानते हुए, निर्णय लें कि सुझाए गए कार्यों में से कौन सा तार्किक रूप से अनुसरण करता है।
कथन: दुपहिया वाहन चालकों के बीच सिर की चोट से संबंधित मौतों में उल्लेखनीय वृद्धि हुई है।
कार्रवाई के तरीके:
I. यातायात पुलिस को दुपहिया वाहन चलाते समय हेलमेट न पहनने पर भारी जुर्माना लगाना चाहिए।
II. मुख्य मार्गों पर दुपहिया वाहनों पर प्रतिबंध लगाया जाना चाहिए।
(A) केवल I अनुसरण करता है
(B) केवल II अनुसरण करता है
(C) या तो I या II अनुसरण करता है
(D) I और II दोनों अनुसरण करते हैं
(E) अनुत्तरित प्रश्न
- 92 दी गई श्रृंखला में लुप्त पद ज्ञात कीजिए:
289, 262, 235, ?, 181, 154, 127
(A) 200 (B) 207
(C) 201 (D) 208
(E) अनुत्तरित प्रश्न
- 93 दी गई श्रृंखला में लुप्त पद ज्ञात कीजिए:
7, 14, ?, 56, 112, 224
(A) 28 (B) 29
(C) 31 (D) 35
(E) अनुत्तरित प्रश्न
- 94 दी गई श्रृंखला में गलत पद ज्ञात कीजिये:
11, 22, 44, 88, 110, 352
(A) 44 (B) 352
(C) 110 (D) 88
(E) अनुत्तरित प्रश्न
- 95 श्रृंखला में अगला पद ज्ञात कीजिये :
12, 12, 18, 36, 90, ?
(A) 280 (B) 270
(C) 290 (D) 300
(E) अनुत्तरित प्रश्न
- 96 दी गई श्रृंखला में अगला पद ज्ञात कीजिए:
1, 4, 9, 16, 25, 36, ____
(A) 64 (B) 49
(C) 81 (D) 48
(E) अनुत्तरित प्रश्न
- 97 निम्नलिखित में से कौन सा पद दी गई श्रृंखला में प्रवृत्ति का अनुसरण करता है?
Z, XW, TSR, NMLK, ?
(A) EDCBA (B) BCEDF
(C) EFDCB (D) FEDCB
(E) अनुत्तरित प्रश्न
- 98 श्रृंखला में लुप्त पद ज्ञात कीजिए:
MFSV, OJYD, ?, SRKT, UVQB
(A) QNDL (B) POCL
(C) QNEL (D) QMFO
(E) अनुत्तरित प्रश्न
- 99 श्रृंखला में अगला पद ज्ञात कीजिये :
PH, ME, JB, GY, ?
(A) DV (B) CV
(C) DW (D) AZ
(E) अनुत्तरित प्रश्न
- 100 दी गई श्रृंखला में आगे क्या आना चाहिए?
BEAUTIFUL, BEAUTIFU, EAUTIFU, EAUTIF, ?
(A) AUTIF (B) UTAIF
(C) EAUTI (D) TAFIU
(E) अनुत्तरित प्रश्न

- 91 In the question given below, there is a statement followed by two courses of action I and II. Assuming everything given in the statement as true, decide which of the suggested course (s) of action logically follow(s).
Statement: There was a significant rise in head injury related deaths among two wheeler riders.
Courses of Action:
I. The traffic police should impose hefty fines for not wearing helmet while riding two wheeler.
II. Two wheelers should be banned on main roads.
(A) Only I follows (B) Only II follows
(C) Either I or II follows (D) Both I and II follow
(E) Question not attempted
- 92 Find the missing term in the given series:
289, 262, 235, ?, 181, 154, 127
(A) 200 (B) 207
(C) 201 (D) 208
(E) Question not attempted
- 93 Find the missing term in the given series:
7, 14, ?, 56, 112, 224
(A) 28 (B) 29
(C) 31 (D) 35
(E) Question not attempted
- 94 Find the wrong term in the given series:
11, 22, 44, 88, 110, 352
(A) 44 (B) 352
(C) 110 (D) 88
(E) Question not attempted
- 95 Find the next term in the series:
12, 12, 18, 36, 90, ?
(A) 280 (B) 270
(C) 290 (D) 300
(E) Question not attempted
- 96 Find the next term in the given series:
1, 4, 9, 16, 25, 36, ____
(A) 64 (B) 49
(C) 81 (D) 48
(E) Question not attempted
- 97 Which of the following term follows the trend in the given series?
Z, XW, TSR, NMLK, ?
(A) EDCBA (B) BCEDF
(C) EFDCB (D) FEDCB
(E) Question not attempted
- 98 Find the missing term in the series:
MFSV, OJYD, ?, SRKT, UVQB
(A) QNDL (B) POCL
(C) QNEL (D) QMFO
(E) Question not attempted
- 99 Find the next term in the series:
PH, ME, JB, GY, ?
(A) DV (B) CV
(C) DW (D) AZ
(E) Question not attempted
- 100 What should come next in the given series?
BEAUTIFUL, BEAUTIFU, EAUTIFU, EAUTIF, ?
(A) AUTIF (B) UTAIF
(C) EAUTI (D) TAFIU
(E) Question not attempted

SPACE FOR ROUGH WORK / रफ कार्य के लिए स्थान

उत्तर पत्रक में दो प्रतियाँ हैं - मूल प्रति और द्वितीय प्रति, परीक्षा समाप्ति पर परीक्षा कक्ष छोड़ने से पूर्व परीक्षार्थी उत्तर पत्रक की दोनों प्रतियाँ वीक्षक को सौंपेंगे, परीक्षार्थी स्वयं द्वितीय प्रति को अलग नहीं करें। वीक्षक द्वारा उत्तर पत्रक की मूल प्रति को अपने पास जमा कर, द्वितीय प्रति को मूल प्रति से कट लाइन से मोड़ कर सावधानी पूर्वक अलग कर परीक्षार्थी को सौंपेंगे। परीक्षार्थी द्वितीय प्रति को अपने साथ ले जायेंगे।